

2022年度 聖ドミニコ学園中学校

入学試験（第1回）

社会

50分

◎次の注意事項^{じこう}を読んでください。

- 1 試験開始のチャイムが鳴るまで開いてはいけません。
- 2 問題は全部で12ページあります。
- 3 解答用紙は問題用紙にはさんであります。
- 4 解答用紙に受験番号、氏名を書いてください。
- 5 答えはすべて解答用紙に書いてください。

- 239年 ①ヒミコ（卑弥呼）が中国に使者をおくる
- 701年 平城京に都がうつる
- 794年 平安京に都がうつる
- 1016年 ②藤原道長が摂政となる
- 1156年 保元の乱がおこる
- 1185年 ③源頼朝が各地に守護・地頭を置く
- 1338年 足利尊氏が征夷大將軍となる
- 1582年 ④織田信長が明智光秀に討たれる
- 1603年 ⑤徳川家康が征夷大將軍となる
- 1716年 徳川吉宗が（ A ）の改革をはじめ
- 1782年 ⑥天明のききんがはじまる
- 1787年 松平定信が（ B ）の改革をはじめ
- 1841年 水野忠邦が（ C ）の改革をはじめ
- 1867年 ⑦徳川慶喜が朝廷に権力を返す
- 1889年 大日本帝国憲法が公布される
- 1918年 ⑧米騒動がおこる
- 1931年 満州事変がおこる
- 1941年 太平洋戦争がはじまる
- 1945年 ⑨太平洋戦争が終わる
- 1946年 ⑩日本国憲法が公布される

問1 空欄（ A ）～（ C ）に当てはまる年号を、それぞれ答えなさい。
年号とは、昭和、平成、令和…などのことをさします。

問2 下線部①について、ヒミコが活躍していた時代には、日本では稲作を中心とした生活が広く行われるようになりました。この時代を何というか、答えなさい。

問3 下線部②について、藤原道長が生きた時代について述べた次の文章の空欄（ D ）・（ E ）に当てはまる言葉を答えなさい。

この時代には、中国から伝わった文化を日本の生活や習慣にあわせて改良した（ D ）文化が発達しました。この文化においては、ひらがなを使ってこまやかな心情を表現した文学作品がみられました。また貴族の邸宅には（ E ）造という様式が用いられ、貴族たちは池や庭の景色をたのしみました。

問4 下線部③について、源頼朝が開いた幕府の名称を答えなさい。

問5 下線部④について、この出来事の名称を答えなさい。

問6 下線部⑤について、徳川家康が開いた幕府の名称を答えなさい。

問7 下線部⑥に関連して、このころには徳川家康が幕府を開いたころにくらべて、社会が変わりつつあり、それに応じて学問にも変化がみられました。これについて、次の（1）・（2）に答えなさい。

（1）医学や天文学などを学ぶため、オランダ語をつうじてヨーロッパの学術を研究する学問を何と言いましたか。漢字2字で答えなさい。

（2）日本に古くからある文化を見直し、日本人ほんらいの考え方を研究する学問を何と言いましたか。漢字2字で答えなさい。

問8 下線部⑦について、こののち日本では、ヨーロッパの国ぐにに追いつくことができるように、生活や制度が変化していきました。これについて、次のページにある絵をみて、江戸時代には一般的にみられなかったことを2つ答えなさい。なお、【説明】をよく読むこと。



(国立国会図書館デジタルコレクションによる)

【説明】この絵は、明治時代に書かれた『安愚楽鍋』^{あぐらなべ}という小説のさしえです。上のさしえでは、黒い洋服を着た人物（右側）が牛肉を煮た鍋料理を食べながら書物を読んでいます。

問 9 下線部⑧について、米騒動^{こめそうどう}では各地で人々が米を売る店をおそいました。なぜ人々は米を売る店をおそったのか、理由をかんたんに答えなさい。

問 10 下線部⑨について、戦争が終わった後もしばらくは苦しい生活が続きました。これについて、なぜ戦争が終わった後も苦しい生活が続いたと思いますか。理由を2つ答えなさい。

問 11 下線部⑩について、

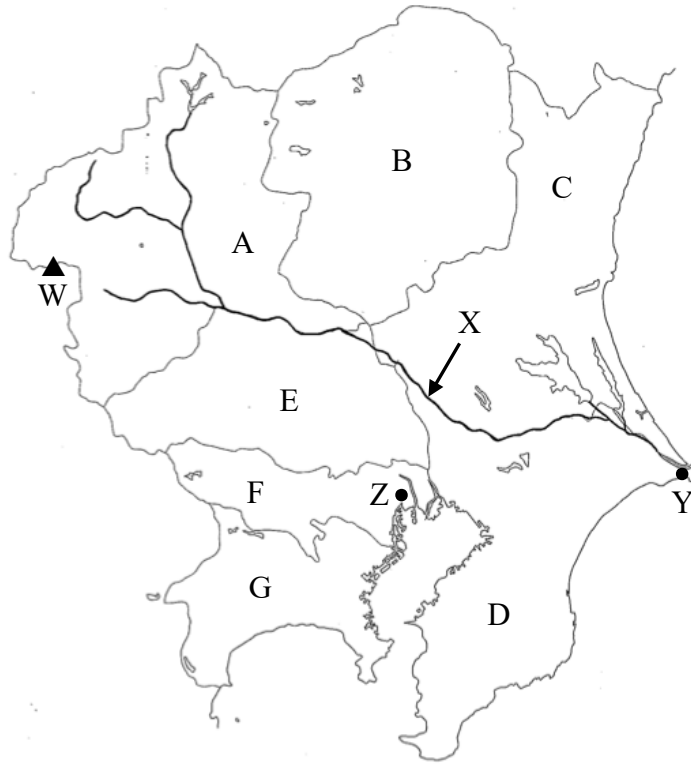
(1) 日本国憲法に定められたことがらとして誤っているものを、次のア～エのなかから1つ選び、記号で答えなさい。

- ア. 男女が平等^{びやうどう}であること。
- イ. 天皇が国の中心となり、政治を行うこと。
- ウ. 労働者^{ろうどうしや}の権利を保障^{ほしょう}すること。
- エ. 言論・出版の自由を保障すること。

(2) 日本国憲法は翌年の1947年に施行^{しこう}されました。施行された日は「憲法記念日」という祝日になっています。この日付を答えなさい。

2

次の地図をみて、下記の問いに答えなさい。



問1 A・B・Cの県庁所在地をそれぞれ答えなさい。

問2 地図中Wは浅間山を示している。夏の冷涼な気候を利用してAのつまごい 嬭恋村でもっともさかんに栽培されている作物を次の中から1つ選び、記号で答えなさい。

ア. キャベツ イ. 白菜 ウ. にんじん エ. ブロッコリー

問3 地図中Xは日本最大の流域面積をもつ河川を示している。その名称を答えなさい。

問4 Dの説明として誤っているものを次の中から1つ選び、記号で答えなさい。

- ア. 1978年に開港した成田国際空港は、日本有数の旅客数と貿易額をほこっている。
- イ. 農作物のうち、落花生や日本なしの生産量が全国第1位となっている。
- ウ. Fに隣接する浦安市には有名なテーマパークがあり、人気を集めている。
- エ. 臨海部に京葉工業地域が形成され、工業製品出荷額は日本最大となっている。

問5 D に位置する地図中の Y にはイワシやサバなどが水あげされる日本有数の漁港がある。その都市を次の中から1つ選び、記号で答えなさい。

- ア. 女川^{おながわ} イ. 気仙沼^{けせんぬま} ウ. 銚子^{ちょうし} エ. 焼津^{やいづ}

問6 E の西部に位置する秩父地方では、石灰石が生産されている。これを主な原料として用いる製品を次の中から1つ選び、記号で答えなさい。

- ア. 接着剤^{ぎょくざい} イ. セメント ウ. 歯みがき粉 エ. 半導体

問7 F・G を説明した甲・乙の文について、正誤の組み合わせとして正しいものを次の中から1つ選び、記号で答えなさい。

甲 F には国の行政機関が集中し、多くの情報が入ってくるため、出版・印刷業がさかんである。

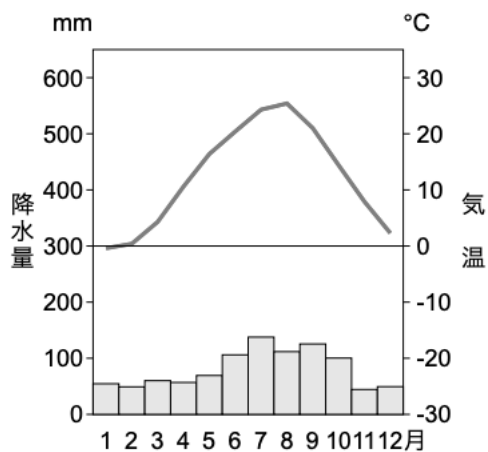
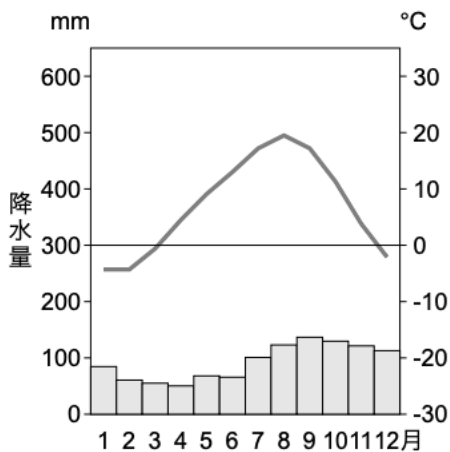
乙 G の西部に位置する箱根町は、火山活動によって形成された景観と温泉などにより人気の観光地となっている。

- ア. 甲：正 乙：正 イ. 甲：正 乙：誤
ウ. 甲：誤 乙：正 エ. 甲：誤 乙：誤

問8 地図中Zの雨温図として正しいものを次の中から1つ選び、記号で答えなさい。

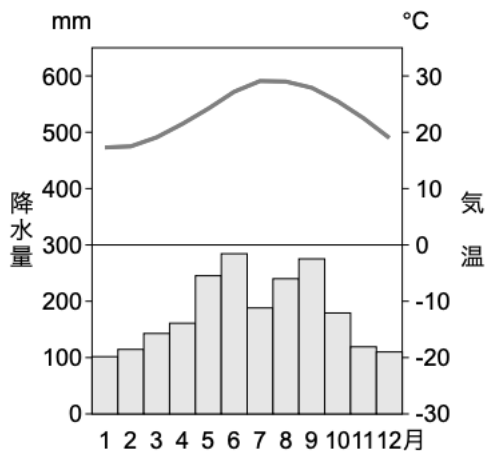
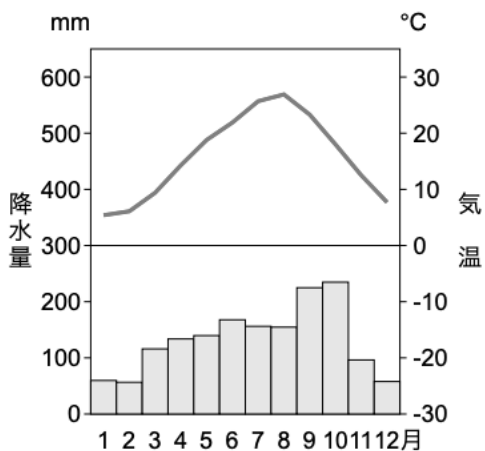
ア.

イ.



ウ.

エ.



3

以下の文章の空欄（ 1 ）～（ 4 ）にふさわしい語句を【語群】から選び、記号で答えなさい。また下記の問いに答えなさい。

国連人口基金の「世界人口白書 2021」によると、①世界各国の総人口はおよそ（ 1 ）億人に達し、なおも増加する傾向にあります。そして私たちの活発な経済活動は、身近なところで発生する②公害問題だけでなく、（ 2 ）を使い果たしてしまうことや深刻な（ 3 ）変動を引き起こしてしまうなど、③地球規模の環境問題につながっていることが近年人びとの間で意識されるようになってきました。2015年に国連で採択された④持続可能な開発目標では、（ 4 ）の目標と169の達成基準を2030年までに実現することが示され、それらに向けて世界の国々は取り組みを進めているところです。

【語群】

ア. 13	イ. 17	ウ. 78	エ. 100
オ. お金	カ. 気候	キ. 資源	ク. 地殻

問1 下線部①について、日本よりも人口が少ない国を次の中から1つ選び、記号で答えなさい。

ア. アメリカ	イ. オーストラリア
ウ. ブラジル	エ. ロシア

問2 下線部②について、日本では法律によって水質汚濁や土壤汚染などが公害として定められている。これら以外の公害を2つ答えなさい。

問3 下線部③について、フロンガスの排出が原因となって地球規模でおこる環境問題として正しいものを次の中から1つ選び、記号で答えなさい。

ア. 赤潮の発生	イ. オゾン層の破壊
ウ. ヒートアイランド現象	エ. 放射能による汚染

問4 下線部④について、持続可能な開発目標の略称をアルファベット4字で答えなさい。

このページには問題はありません

4 以下の文章を読んで問いに答えなさい。

昨年、①過去におこったいくつかの大きな災害や事件などから、ちょうど節目の年がありました。災害などは忘れたころにやって来たりするものです。②日頃から備えを忘れずにしておかなければなりません。また、いまだ世界中が③新型コロナウイルス感染症に翻弄されています。日本では昨年の2月から医療従事者への(1)接種がはじまり、昨年末までに全人口の8割近くの人が(1)の接種を完了させています。その効果か、9月以降は感染者数が大はばに減少していきました。

その9月に菅義偉首相が、自民党総裁選不出馬を表明しました。10月14日に衆議院が解散され、第49回④衆議院議員選挙が実施され、自民党と公明党が過半数を上回る議席を確保しました。10月4日に召集された(2)で、自民党の総裁選に勝利していた(3)氏が新しい内閣総理大臣に指名されました。

明るいニュースとしては、7月に⑤国際連合教育科学文化機関の世界遺産委員会の決定により、⑥「北海道・北東北の縄文遺跡群」が世界文化遺産に登録されました。世界的にみてもめずらしい特ちょうがみられる縄文時代の、発展過程やくらしぶり、精神文化をしめす証拠が多く残っていることが評価されました。

問1 下線部①について、以下の表中の(A)～(C)にはいることばを、それぞれ語群から1つ選び、記号で答えなさい。

1991年〔30年前〕	長崎県の(A)で大 <u>火砕流</u> が発生。
2001年〔20年前〕	アメリカで(B)がおこる。
2011年〔10年前〕	(C)がおこる。とくに津波の被害が大きかった。

【語群】

- | | | | |
|---------|-------------|-----------|---------|
| ア. 熊本地震 | イ. 阪神・淡路大震災 | ウ. 雲仙普賢岳 | エ. 金融恐慌 |
| オ. 南北戦争 | カ. リーマンショック | キ. 東日本大震災 | ク. 御嶽山 |
| ケ. 桜島 | コ. 同時多発テロ | | |

問2 下線部②について、災害に対してどのような備えが必要か、具体的に答えなさい。

問3 下線部③について、以下の文章中の（ A ）にはいる言葉をカタカナで答えなさい。
また、（ B ）にはいる人物を、【語群】から1つ選び、記号で答えなさい。

コロナ禍においてテレワークが広がった一方、社会の（ A ）化のおくれが明らかになったため、政府は9月1日に（ A ）庁を発足させた。また、感染症^{かんせんしやう}研究で活やくした日本人の（ B ）は、新千円札の肖像^{しやうざう}になることが決まっている。

【語群】

ア. 野口^{ひでよ}英世 イ. 渋沢^{しぶさわ}栄一 ウ. 北里^{しほさぶろう}柴三郎 エ. 志賀^{しが}潔^{きよし}

問4 （ 1 ）にはいることばを、カタカナで答えなさい。

問5 下線部④について、衆議院やその選挙について述べた以下の文の中から、誤っているものを1つ選び、記号で答えなさい。

- ア. 被選挙権は満25歳以上で、衆議院議員の任期は4年である。
- イ. 衆議院は議員数が多く、より慎重^{しんちやう}に審議^{しんぎ}ができるため良識の府ともよばれる。
- ウ. 小選挙区比例代表並立制で実施され、465人の議員が選出される。
- エ. 予算案はまず衆議院に提出され、先に審議・議決することになっている。

問6 下線部④について、投票日に投票に行けない有権者が事前に投票できる制度を何というか答えなさい。

問7 （ 2 ）にはいることばを、次の中から1つ選び、記号で答えなさい。

ア. 両院協議会 イ. 臨時国会 ウ. 特別国会 エ. 通常国会

問8 （ 3 ）にはいる、現在の内閣総理大臣をフルネームで答えなさい。

問9 下線部⑤について、この機関を何というか、次の中から1つ選び、記号で答えなさい。

ア. エヌジーオー イ. ジャイカ ウ. ユニセフ エ. ユネスコ

問 10 下線部⑥について、右の写真の遺跡は、この遺跡群のうちの一つである。その名称を次の中から1つ選び、記号で答えなさい。



- ア. 岩宿遺跡 イ. 三内丸山遺跡
ウ. 登呂遺跡 エ. 吉野ヶ里遺跡

5 以下の会話文を読んで問いに答えなさい。

よ し か：①京都の清水寺で発表された、2021年を表す漢字は「金」でしたね。「金」が選ばれるのは最多で、4度目らしいです。

丸木先生：そうだね。たしか前回「金」が選ばれたのもリオデジャネイロでオリンピックが開催された2016年でした。長く暗いコロナ禍のなかで開催された東京オリンピック・パラリンピックは、②さまざまな対策がとられるなかで実施され、日本人選手の活躍がひとときわ輝くニュースとなりましたね。

れ い な：東京でオリンピックが開催されたのは2回目ですよ。私の祖父は、前回の東京オリンピックでは、マラソンを沿道から応援したらしいです。

丸木先生：前は1964年に開催されました。③ちょうどその頃の日本は④高度経済成長まっただなかで、オリンピックの開幕前に（ 1 ）新幹線が開通し、首都高速道路なども整備されたのですよ。

よ し か：東京以外で、日本でオリンピックが開催されたことってあるんですか。

丸木先生：ありますよ。冬季オリンピックになりますが、過去には⑤日本の2つの都市で開催されていますよ。

よ し か：そうか、冬季オリンピックなので、雪が積もるような寒い地域の都市で開催されているのですね。

れ い な：ところで、2022年は（ 2 ）で開催されますよね。この都市では、私たちが生まれた前年の2008年に、夏季大会も開催されていますよね。

丸木先生：よく知っているね。（ 2 ）は、夏季・冬季の両方のオリンピックが開催された初めての都市になるということなんだよ。


問1 下線部①について、ここは外国人観光客に最も人気のある場所の1つで、以下のAとBの国旗の国からの観光客がとくに多く訪れます。それぞれの国名を答え、以下の文の中から、その国の説明として正しいものを1つずつ選び、記号で答えなさい。

A



ア. この国の伝統的な民族衣装をチマ・チョゴリという。
イ. 日本に大量の石油を輸出している。
ウ. 日系人も多く、コーヒーの栽培が農業の中心であった。

B



エ. 人口は世界一多く、一人っ子政策を実施していた。
オ. 人口は世界第2位で、ヒンドゥー教徒が非常に多い。

問2 下線部②について、どのような対策がとられたか、具体的に1つ答えなさい。

問3 下線部③について、このころ人びとの間では「新三種の神器」とよばれる物が普及していました。生活を快適にした3Cともよばれる物は、クーラー、自動車ともう1つは何か。次の中から1つ選び、記号で答えなさい。

ア. 洗濯機 イ. 冷蔵庫 ウ. 電子レンジ エ. カラーテレビ

問4 下線部④について、これが終わるきっかけになったものを、次の中から1つ選び、記号で答えなさい。

ア. ベトナム戦争 イ. 冷戦の終結 ウ. 石油危機 エ. 沖縄返還

問5 (1) にはいることばを、次の中から1つ選び、記号で答えなさい。

ア. 九州 イ. 東海道 ウ. 東北 エ. 北海道

問6 下線部⑤について、どの都市か、次の中から2つ選び、記号で答えなさい。

ア. 札幌 イ. 函館 ウ. 盛岡 エ. 新潟 オ. 長野

問7 (2) にはいる都市名を、次の中から1つ選び、記号で答えなさい。

ア. ソチ イ. リレハンメル ウ. ペキン エ. ヘルシンキ

これ以降のページには問題はありません